




## ΦΥΛΛΟ 2

Να συμπληρωθούν οι καταστάσεις που θα βρίσκονται τα αντίστοιχα led στους σηματοδότες των αυτοκινήτων- πεζών αντίστοιχα σε καθε μια απο τις τρεις φάσεις.

Φάση 1		<p>Πράσινο led αυτοκινήτων= HIGH                      Πορτοκαλί led αυτοκινήτων= LOW                      Κόκκινο led αυτοκινήτων= .....</p> <p>Κόκκινο led πεζών= .....                      Πράσινο led πεζών=.....</p> <p>Χρονοκαθυστέριση .....ms</p>
Φάση 2		<p>Πράσινο led αυτοκινήτων= .....                      Πορτοκαλί led αυτοκινήτων= .....                      Κόκκινο led αυτοκινήτων= .....</p> <p>Κόκκινο led πεζών= .....                      Πράσινο led πεζών=.....</p> <p>Χρονοκαθυστέριση .....ms</p>
Φάση 3		<p>Πράσινο led αυτοκινήτων= .....                      Πορτοκαλί led αυτοκινήτων= .....                      Κόκκινο led αυτοκινήτων= .....</p> <p>Κόκκινο led πεζών= .....                      Πράσινο led πεζών=.....</p> <p>Χρονοκαθυστέριση .....ms</p>